

Repetitions-Aufgaben 1 Wellen

Aufgaben

R1.1 Eine Trompete ist ein beidseits offenes Rohr, in welchem eine Luftsäule Eigenschwingungen ausführen kann. Das Anspielen eines Tones entspricht dem Anregen einer Eigenschwingung. Bei einer bestimmten Länge der Trompete können also nur bestimmte Töne gespielt werden, die sogenannten Naturtöne, nämlich der Grundton und die dazugehörigen Obertöne.

Eine Tonleiter erstreckt sich über eine Oktave, welche in 12 Halbtonschritte unterteilt ist. Das Frequenzverhältnis zweier Töne, die um eine Oktave auseinander liegen, beträgt 2:1.

Ein Trompetenbauer macht die folgende Behauptung:

"Es ist möglich, eine Trompete zu bauen, bei welcher es zwei benachbarte Naturtöne gibt, die genau um einen Halbton auseinander liegen."

Beurteilen Sie mit schlüssiger Begründung, ob diese Aussage wahr oder falsch ist.

R1.2 Von einer Orgelpfeife kennt man die Frequenzen von drei Oberschwingungen:

369 Hz 492 Hz 738 Hz

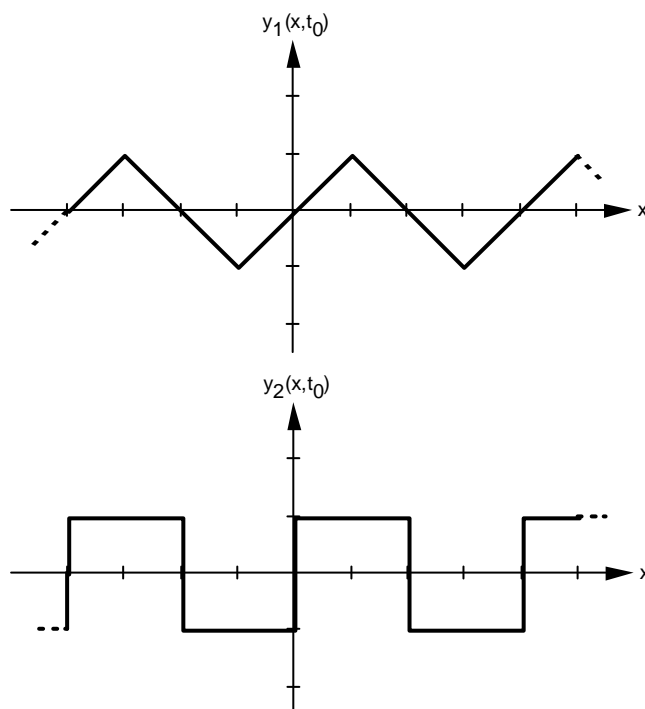
Man weiss jedoch nicht, ob die drei Oberschwingungen aufeinander folgende Oberschwingungen sind (z.B. 3./4./5. OS). Es ist also möglich, dass es zwischen den drei gegebenen Frequenzen noch Frequenzen von weiteren Oberschwingungen hat.

Begründen Sie, dass es sich bei der Orgelpfeife nicht um eine einseitig offene Pfeife handeln kann, sondern dass sie entweder beidseits geschlossen oder beidseits offen sein muss.

R1.3 Gegeben sind zwei lineare Wellen, eine Dreieckswelle $y_1(x,t)$ und eine Rechteckswelle $y_2(x,t)$.

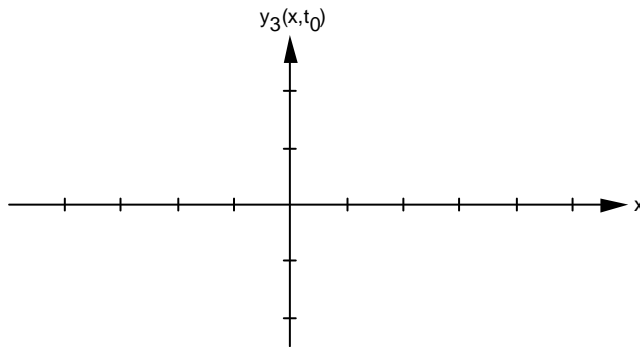
Beide haben die gleiche Wellenlänge und die gleiche Frequenz. Die Dreieckswelle breitet sich in positiver x -Richtung aus, die Rechteckswelle in negativer x -Richtung.

Die folgenden Grafiken zeigen die Momentaufnahmen der Wellen $y_1(x,t)$ und $y_2(x,t)$ zu einem bestimmten Zeitpunkt $t = t_0$:

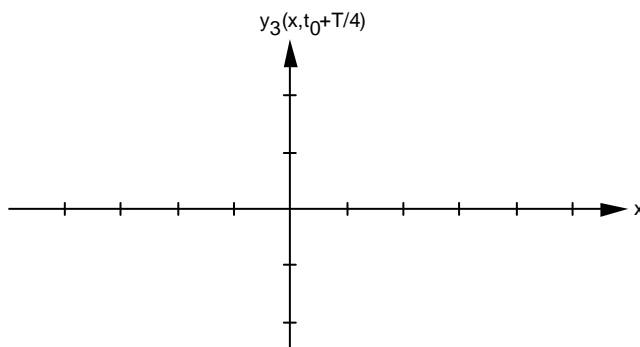


Eine dritte Welle $y_3(x,t)$ entsteht durch Überlagerung der beiden Wellen $y_1(x,t)$ und $y_2(x,t)$:
 $y_3(x,t) = y_1(x,t) + y_2(x,t)$

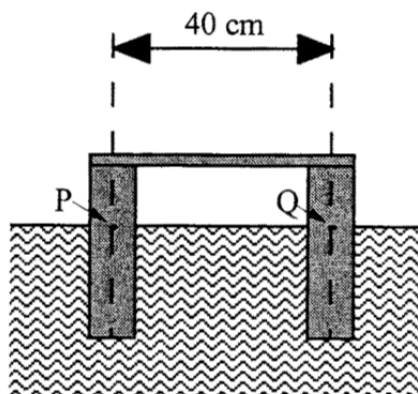
- a) Zeichnen Sie die Momentaufnahme der Welle $y_3(x,t)$ zum Zeitpunkt $t = t_0$:



- b) Zeichnen Sie, wie die Welle $y_3(x,t)$ eine Viertel-Schwingungsdauer später aussieht.
 Gefragt ist also nach der Momentaufnahme der Welle $y_1(x,t)$ zum Zeitpunkt $t = t_0 + T/4$:



- R1.4 Ein Schwimmkörper der Masse 0.10 kg besteht aus zwei im Abstand von 40 cm starr verbundenen Zylindern mit Radius 1.0 cm.



Der Körper wird, ausgehend von seiner Ruhe-Eintauchtiefe, symmetrisch etwas tiefer eingetaucht. Nach dem Loslassen führt er eine annähernd harmonische Schwingung aus.

Eine Berechnung, die Sie nicht ausführen müssen, würde ergeben, dass die Schwingungsdauer 1.1 s beträgt.

Durch die Bewegung des Körpers werden an der Wasseroberfläche Kreiswellen erzeugt. Diese Wellen gehen vereinfacht betrachtet von den Punktquellen P und Q aus und breiten sich mit der Geschwindigkeit 0.30 m/s aus.

Wie viele ruhige Wasserstellen (Interferenzminima) würde man antreffen, wenn man mit einem Schiff den Schwimmkörper einmal umkreiste?

R1.5 Ein Südseefischer geht mit der Harpune in einer schönen, sonnendurchfluteten und klaren Lagune auf Fischfang. Er entdeckt einen grossen Fisch, der 1.5 m unter der Wasseroberfläche schwimmt. Der Fischer, dessen Auge 1.6 m über der Wasseroberfläche ist, sieht den Fisch unter dem Winkel 66° (zur Horizontalen).

In welche Richtung (zur Horizontalen) muss er mit der Harpune zielen, wenn er den Fisch treffen will?

R1.6 Eine planparallele Glasplatte wird mit schwarzem Papier so abgedeckt, dass nur zwei schmale parallele Spalten frei bleiben. Nun lässt man einen monochromatischen Lichtstrahl so durch den einen Spalt einfallen, dass er nach der Reflexion an der hinteren Plattenfläche durch den anderen Spalt wieder austritt.

Bestimmen Sie den dafür notwendigen Einfallswinkel α in Abhängigkeit der Plattendicke D , dem Brechungsindex n des Glases und dem Spaltenabstand d .

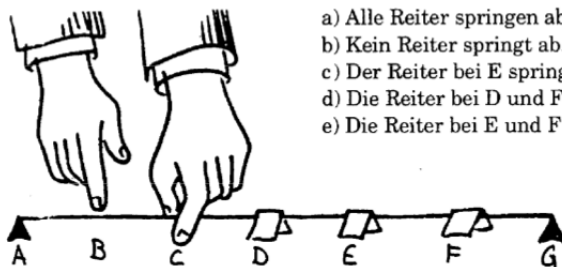
R1.7 Aufgaben aus:

Epstein, L.C.: Epsteins Physikstunde. 3. Auflage, Birkhäuser, Basel 1992, ISBN 3-7643-2771-5

a)

PLING

Eine Gitarrensaiten ist zwischen die Punkte A und G gespannt. Die Saite wird mit den Punkten B, C, D, E, F in gleiche Intervalle unterteilt. An den Punkten D, E und F werden Papierreiter auf die Saite gelegt. Die Saite wird an C festgehalten und an B gezupft. Was geschieht?



- a) Alle Reiter springen ab.
- b) Kein Reiter springt ab.
- c) Der Reiter bei E springt ab.
- d) Die Reiter bei D und F springen ab.
- e) Die Reiter bei E und F springen ab.

b)

EINE LUPE IM WASCHBECKEN

Wenn eine Lupe unter Wasser gehalten wird, ist ihre Vergrößerungswirkung

- a) erhöht
- b) gleich groß wie ohne Wasser
- c) verringert



Lösungen

R1.1 Das Gleichungssystem

$$\begin{aligned}f_1 &= n \cdot f_0 \\f_2 &= (n + 1) \cdot f_0 \\f_2 &= \sqrt[12]{2} \cdot f_1\end{aligned}$$

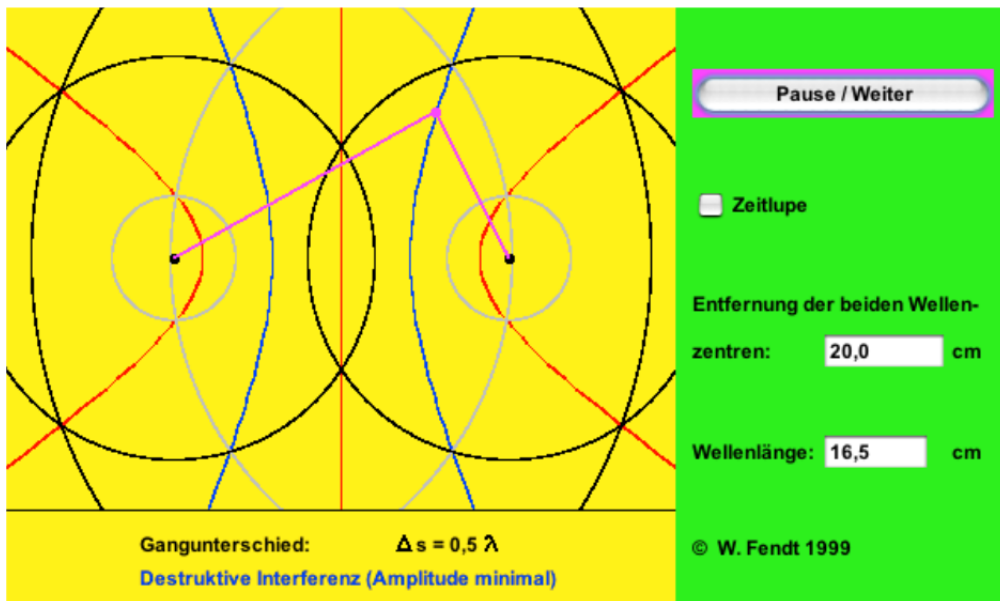
ergibt die Lösung $n = 16.95$

Damit die beiden Naturtöne genau einen Halbton auseinander liegen, müsste n eine ganze Zahl sein. Es ist Ermessenssache, ob für die praktische Anwendung 16.95 genügend nahe bei 17 liegt.

R1.2 Bei einem einseitig offenen Rohr ist es nicht möglich, dass die Frequenz einer Eigenschwingung doppelt so gross ist wie die Frequenz einer anderen Eigenschwingung ($738 \text{ Hz} = 2 \cdot 369 \text{ Hz}$).

- R1.3 a) An jedem Ort x überlagern sich (Addition) die Auslenkungen der beiden Wellen y_1 und y_2 .
- b) In der Zeit $T/4$ hat sich die Welle y_1 um eine x -Einheit (1 Strich = 1 Einheit) nach rechts bewegt, die Welle y_2 um eine x -Einheit nach links.
Die so verschobenen Wellen müssen an jeder Stelle x überlagert werden (analog zu a)).

R1.4 4 Interferenzminima bei einem vollständigen Umgang
(siehe Grafik, Quelle: <http://www.zum.de/ma/fendt/ph14d/interferenz.htm>)



Hinweis:

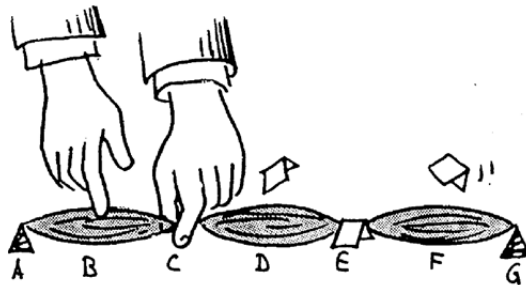
- Der reale Abstand der Wellenzentren beträgt zwar $d = 40 \text{ cm}$ und die wahre Wellenlänge beträgt $\lambda = 33 \text{ cm}$. Die Lage der Interferenzmaxima und -minima ist jedoch gleich wie in der Grafik dargestellt (für $d = 20.0 \text{ cm}$ und $\lambda = 16.5 \text{ cm}$).

R1.5 69° ($n_{\text{Luft}} = 1$, $n_{\text{Wasser}} = 1.33$)

R1.6 $\sin(\alpha) = \frac{d \cdot n}{\sqrt{4D^2 + d^2}}$

R1.7 a)

ANTWORT: PLING Die Antwort ist: d. In diesem Fall sagt ein Bild mehr als 1000 Worte. Die Skizze zeigt, wie die Saite vibriert und welche Reiter abspringen.



b)

ANTWORT: EINE LUPE IM WASCHBECKEN Die Antwort ist: c. Sie könnten die Antwort auf diese Frage herausfinden, indem Sie tatsächlich eine Lupe unter Wasser halten und nachsehen, welche Änderungen auftreten. Versuchen Sie es! Wir wissen, daß eine Lupe Lichtstrahlen bricht, um zu vergrößern. Sie bricht die Lichtstrahlen wegen der Krümmung der Linse und weil die Lichtgeschwindigkeit im Glas geringer ist als die Lichtgeschwindigkeit in der Luft. Die Geschwindigkeitsänderung erzeugt die Brechung. Im Wasser ist das Licht jedoch bereits verlangsamt. Beim Eintritt in das Glas wird es noch weiter verlangsamt, aber die Geschwindigkeitsänderung ist nicht mehr so stark. Daher ist unter Wasser die Brechung geringer und damit auch die Wirkung der Linse geringer. Wenn die Lichtgeschwindigkeit im Wasser genauso langsam wäre wie die Lichtgeschwindigkeit im Glas, würde die Linse die Strahlen überhaupt nicht brechen. Sie würden einfach gerade hindurchlaufen, genau wie durch ein Fenster – flaches Glas fokussiert Licht nicht, daher haben Fenster kein Vergrößerungsvermögen.

