

Übung 11 **Fourier-Transformation** **Faltung, Modulation**

Lernziele

- sich das Faltungsintegral zweier Funktionen grafisch vorstellen können.
- die Faltung zweier einfacher Funktionen grafisch ausführen können.
- das Spektrum eines modulierten Signals mit Hilfe der Modulationseigenschaft der Fourier-Transformation bestimmen können.

Aufgaben

Faltung

1. Veranschaulichen Sie sich das Faltungsintegral

$$x_1(t) * x_2(t) := \int_{-\infty}^{\infty} x_1(\tau) x_2(t-\tau) d\tau$$

anhand der beiden konkreten Funktionen

$$x_1(t) = e^{-at} \cdot u(t) \quad (a > 0)$$

$$x_2(t) = u(t)$$

Lösen Sie dazu die folgenden Teilaufgaben:

- a) Skizzieren Sie die Grafen der folgenden Funktionen:

i) $x_1(\tau)$

ii) $x_2(\tau)$

iii) $x_2(-\tau)$

iv) $x_2(t-\tau)$

Unterscheiden Sie dabei die beiden Fälle $t > 0$ und $t < 0$.

v) $x_1(\tau) \cdot x_2(t-\tau)$

Unterscheiden Sie dabei die beiden Fälle $t > 0$ und $t < 0$.

- b) Finden Sie mit Hilfe der Grafen aus a) eine geometrische Veranschaulichung des Integrals

$$\int_{-\infty}^{\infty} x_1(\tau) x_2(t-\tau) d\tau$$

2. Die Funktion $y(t)$ sei definiert als Faltung der beiden Funktionen $x_1(t)$ und $x_2(t)$:

$$y(t) := x_1(t) * x_2(t)$$

- i) Skizzieren Sie die Grafen von $x_1(t)$ und $x_2(t)$.

- ii) Bestimmen Sie $y(t)$ auf grafische Weise, d.h. nach dem in der Aufgabe 1 aufgezeigten grafischen Vorgehen.

- iii) Skizzieren Sie den Grafen von $y(t)$.

a) $x_1(t) = x_2(t) = \begin{cases} 1 & (0 \leq t \leq 1) \\ 0 & (t < 0 \text{ oder } t > 1) \end{cases}$

b) $x_1(t) = u(t)$
 $x_2(t) = \begin{cases} t & (0 \leq t \leq 1) \\ 0 & (t < 0 \text{ oder } t > 1) \end{cases}$

c) * $x_1(t) = \begin{cases} t & (0 \leq t \leq 1) \\ -t+2 & (1 \leq t \leq 2) \\ 0 & (t < 0 \text{ oder } t > 2) \end{cases}$
 $x_2(t) = \begin{cases} 1 & (0 \leq t \leq 2) \\ 0 & (t < 0 \text{ oder } t > 2) \end{cases}$

3. Studieren Sie das Java-Applet "Faltung", welches das Faltungsintegral zweier Funktionen veranschaulicht. Sie finden einen Link auf das Applet unter:

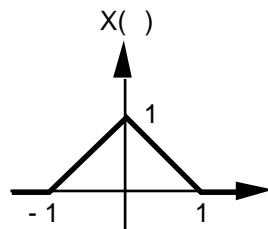
<http://www.tel.fh-htwchur.ch/~borer> Mathematik Unterlagen (...) Faltung

Modulation

4. Ein beliebiges Signal $x(t)$ mit Spektrum $X(\omega)$ wird mit dem folgenden cosinus-förmigen Signal $m(t)$ moduliert:

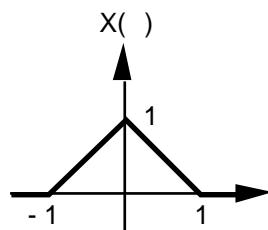
$$m(t) = \cos(\omega_0 t)$$

- Entnehmen Sie einer Fourier-Transformations-Tabelle das Spektrum $M(\omega)$ von $m(t)$.
- Skizzieren Sie den Grafen von $M(\omega)$.
- Bestimmen Sie mit Hilfe der Modulationseigenschaft der Fourier-Transformation das Spektrum $X_m(\omega)$ des modulierten Signals $x_m(t) := x(t) \cdot m(t)$.
- Skizzieren Sie den Grafen von $X_m(\omega)$ unter der Annahme, dass der Graf von $X(\omega)$ die folgende Form habe:



- Erklären Sie in eigenen Worten, wie das Spektrum $X_m(\omega)$ aus dem Spektrum $X(\omega)$ hervorgeht, bzw. wie sich das Spektrum eines beliebigen Signals verändert, wenn man das Signal mit einem cosinus-förmigen Signal moduliert.

5. Gegeben ist das Spektrum $X(\omega)$ des Signals $x(t)$:



Das Signal wird mit dem Signal $m(t)$ moduliert.

Bestimmen Sie den grafischen Verlauf des Spektrums des modulierten Signals $x_m(t) := x(t) \cdot m(t)$.

- $m(t) = \cos\left(\frac{t}{2}\right)$
- $m(t) = \cos(t)$

Lösungen

1. a) ...

b) $x_1(\cdot) \cdot x_2(t-\cdot)$ d

ist die Fläche zwischen dem Grafen der Funktion $x_1(\cdot) \cdot x_2(t-\cdot)$ und der τ -Achse.

2. a) i) ...

$$y(t) = \begin{cases} 0 & (t < 0 \quad t > 2) \\ t & (0 \leq t < 1) \\ -t+2 & (1 \leq t < 2) \end{cases}$$

iii) ...

b) i) ...

$$y(t) = \begin{cases} 0 & (t < 0) \\ \frac{t^2}{2} & (0 \leq t < 1) \\ \frac{1}{2} & (t > 1) \end{cases}$$

iii) ...

c) * i) ...

$$y(t) = \begin{cases} \frac{t^2}{2} & (0 \leq t < 1) \\ -\frac{t^2}{2} + 2t - 1 & (1 \leq t < 3) \\ \frac{t^2}{2} - 4t + 8 & (3 \leq t < 4) \\ 0 & (t < 0 \quad t > 4) \end{cases}$$

iii) ...

3. ...

4. a) $M(\cdot) = \frac{1}{2} X(\cdot + 0) + \frac{1}{2} X(\cdot - 0)$

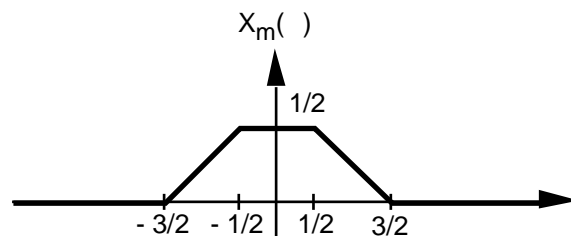
b) ...

$$X_m(\cdot) = \frac{1}{2} X(\cdot + 0) + \frac{1}{2} X(\cdot - 0)$$

d) ...

e) ...

5. a)



b)

